

VRAAG 2.1: VASTE LIGGAME

Gegee:

- Die vooraansig van 'n gelyksydige vierkantige prisma.
- Die basissye van die gelyksydige vierkantige prisma is 35 mm.

Instruksies:

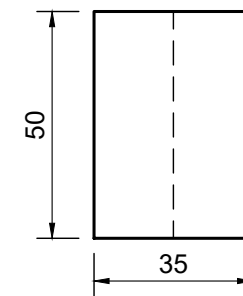
Teken volgens skaal 1 : 1, die volgende aansigte van die vaste liggaam:

- 2.1 Die gegewe vooraansig
- 2.2 'n Bo-aansig
- 2.3 'n Regteraansig

Let wel:

- Beplanning is noodsaaklik
- Toon alle konstruksies
- Toon alle verborge besonderhede

ASSESSERINGSKRITERIA			
1	BO-AANSIG	6	
2	VOORAANSIG	5	
3	REGTERAANSIG	5	
PENALISERING (-1)			
TOTAAL		16	



VRAAG 2.2: VASTE LIGGAME

Gegee:

- Die vooraansig van 'n gelyksydige driehoekige prisma.
- Die basissye van die gelyksydige driehoekige prisma is 35 mm.

Instruksies:

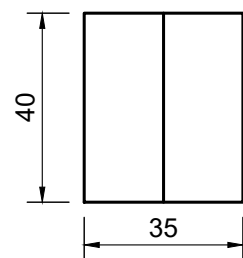
Teken volgens skaal 1 : 1, die volgende aansigte van die vaste liggaam:

- 2.1 Die gegewe vooraansig
- 2.2 'n Bo-aansig
- 2.3 'n Regteraansig

Let wel:

- Beplanning is noodsaaklik
- Toon alle konstruksies
- Toon alle verborge besonderhede

ASSESSERINGSKRITERIA			
1	BO-AANSIG	5	
2	VOORAANSIG	5	
3	REGTERAANSIG	5	
PENALISERING (-1)			
TOTAAL		15	



VRAAG 2.3: VASTE LIGGAME

Gegee:

- Die vooraansig van 'n gelyksydige driehoekige prisma.
- Die basissye van die gelyksydige driehoekige prisma is 35 mm.

Instruksies:

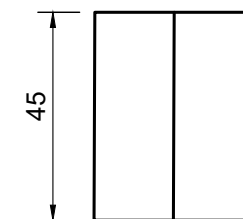
Teken volgens skaal 1 : 1, die volgende aansigte van die vaste liggaam:

- 2.1 Die gegewe vooraansig
- 2.2 'n Bo-aansig
- 2.3 'n Linkeraansig

Let wel:

- Beplanning is noodsaaklik
- Toon alle konstruksies
- Toon alle verborge besonderhede

ASSESSERINGSKRITERIA			
1	BO-AANSIG	5	
2	VOORAANSIG	5	
3	LINKERAANSIG	5	
PENALISERING (-1)			
TOTAAL		15	



VRAAG 2.4: VASTE LIGGAME

Gegee:

- Die vooraansig van 'n gelyksydige vierkantige prisma.
- Die basissye van die gelyksydige vierkantige prisma is 25 mm.

Instruksies:

Teken volgens skaal 1 : 1, die volgende aansigte van die vaste liggaam:

- 2.1 Die gegewe vooraansig
- 2.2 'n Bo-aansig
- 2.3 'n Linkeraansig

Let wel:

- Beplanning is noodsaaklik
- Toon alle konstruksies
- Toon alle verborge besonderhede

ASSESSERINGSKRITERIA			
1	BO-AANSIG	7	
2	VOORAANSIG	5	
3	LINKERAANSIG	5	
PENALISERING (-1)			
TOTAAL		17	



VASTE LIGGAME

BERAAMDE TYD VIR VOLTOOIING
JOU TYD VAN VOLTOOIING

30 MIN
MIN

GRAAD
10

NAAM & VAN

TAAK
7.1
BLADSY
2.1