

**VRAAG 11.2.1:  
BESKRYWENDE MEETKUNDE**

**Gegee:**  
Die vooraansig en bo-aansig van 'n lynstuk AB in eerstehoekse ortografiese projeksie.

**Instruksies:**  
Bepaal, deur middel van konstruksie, die volgende:

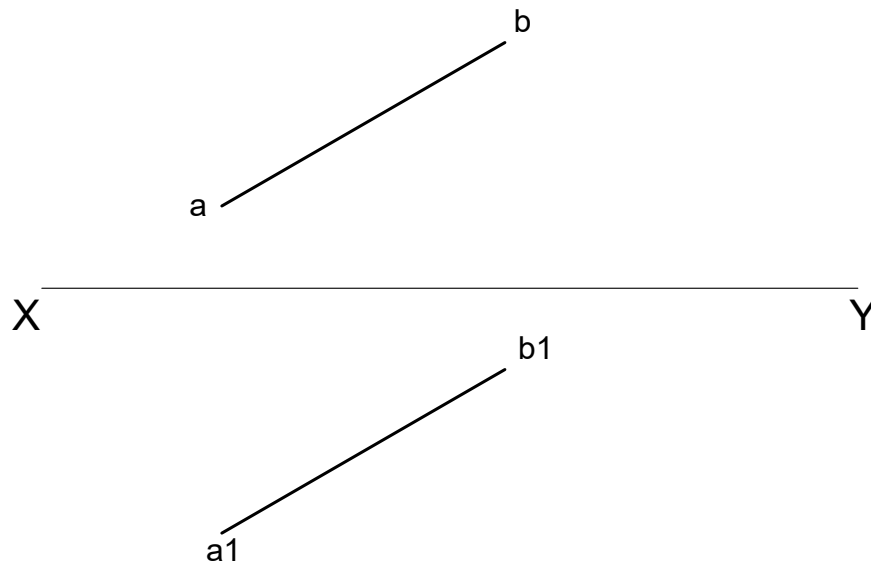
- Die ware lengte van lynstuk AB.
- Die hoek wat lynstuk AB vorm ten opsigte van die vertikale vlak.
- 'n Linkeraansig

**Let wel:**

- Toon alle konstruksies
- Voltooi die tabel

ASSESSERINGSKRITERIA			
1	WARE LENGTE - AB	6	
2	LINKERAANSIG	3	
3	TABEL	2	
PENALISERING (-1)			
<b>TOTAAL</b>		11	

TABEL		
2.1	WL - AB	
2.2	$\phi$ - AB	



TABEL		
2.1	WL - CD	
2.2	$\ominus$ - CD	

**VRAAG 11.2.2:  
BESKRYWENDE MEETKUNDE**

**Gegee:**  
Die vooraansig en bo-aansig van 'n lynstuk CD in eerstehoekse ortografiese projeksie.

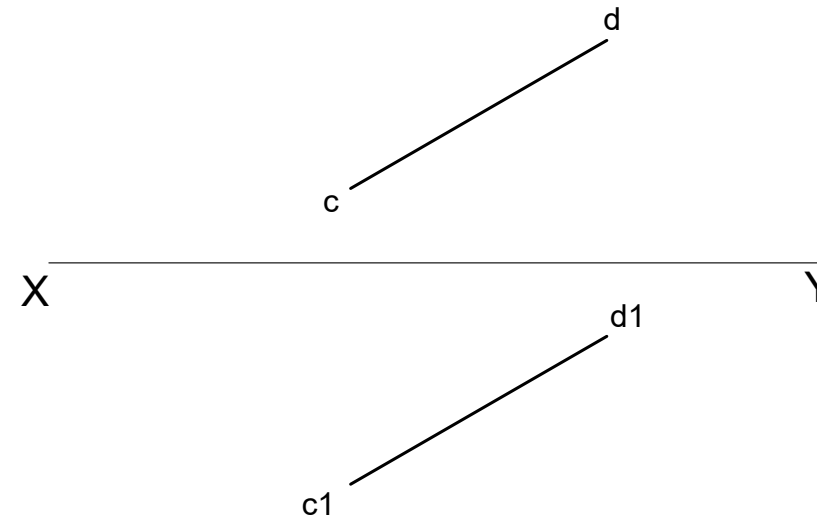
**Instruksies:**  
Bepaal, deur middel van konstruksie, die volgende:

- Die ware lengte van lynstuk CD.
- Die hoek wat lynstuk CD vorm ten opsigte van die horisontale vlak.
- 'n Regteraansig

**Let wel:**

- Toon alle konstruksies
- Voltooi die tabel

ASSESSERINGSKRITERIA			
1	WARE LENGTE - CD	6	
2	REGTERAANSIG	3	
3	TABEL	2	
PENALISERING (-1)			
<b>TOTAAL</b>		11	



**VRAAG 11.2.3:  
BESKRYWENDE MEETKUNDE**

**Gegee:**  
Die vooraansig en bo-aansig van 'n lynstuk EF in eerstehoekse ortografiese projeksie.

**Instruksies:**  
Bepaal, deur middel van konstruksie, die volgende:

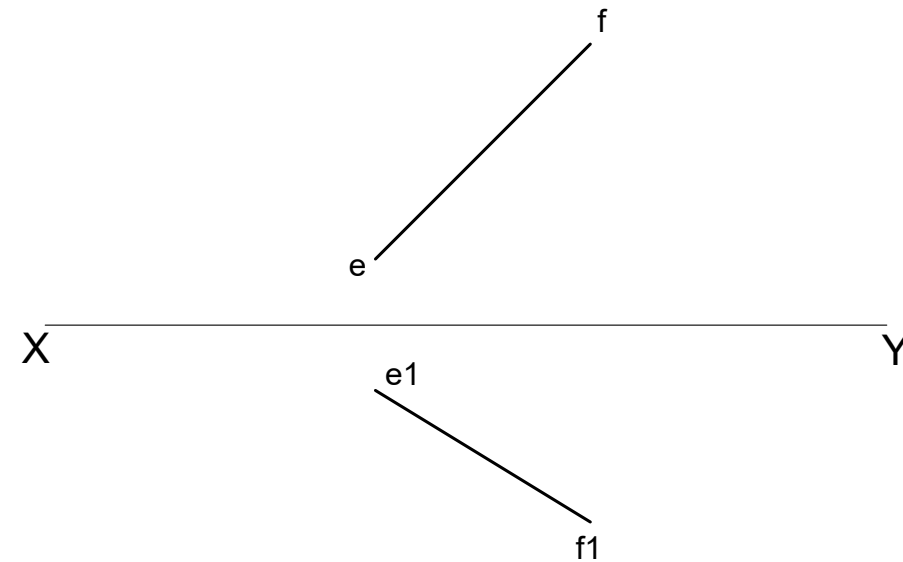
- Die ware lengte van die lynstuk EF.
- Die hoek wat lynstuk EF vorm ten opsigte van die vertikale vlak.
- 'n Linkeraansig

**Let wel:**

- Toon alle konstruksies
- Voltooi die tabel

ASSESSERINGSKRITERIA			
1	WARE LENGTE - EF	6	
2	LINKERAANSIG	3	
3	TABEL	2	
PENALISERING (-1)			
<b>TOTAAL</b>		11	

TABEL		
2.1	WL - EF	
2.2	$\phi$ - EF	



**VRAAG 11.2.4:  
BESKRYWENDE MEETKUNDE**

**Gegee:**  
Die vooraansig en bo-aansig van 'n lynstuk GH in eerstehoekse ortografiese projeksie.

**Instruksies:**  
Bepaal, deur middel van konstruksie, die volgende aansigte van die lynstuk:

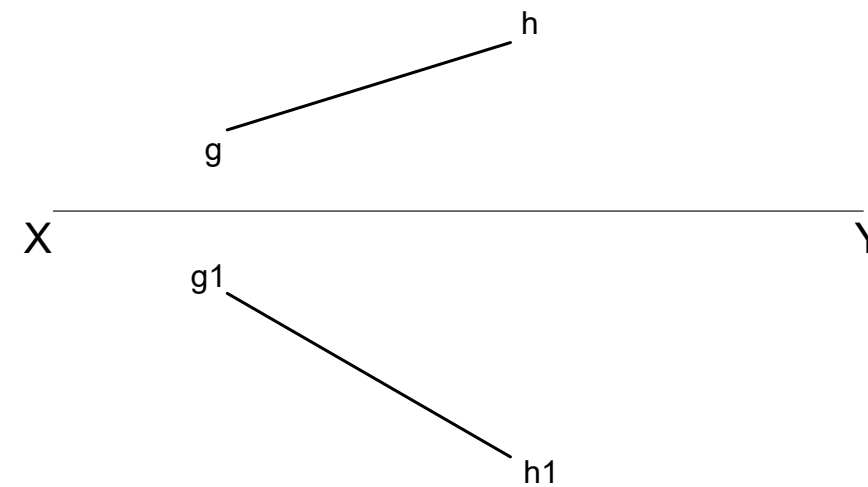
- Die ware lengte van lynstuk GH.
- Die hoek wat lynstuk GH vorm ten opsigte van die horisontale vlak.
- 'n Linkeraansig

**Let wel:**

- Toon alle konstruksies
- Voltooi die tabel

ASSESSERINGSKRITERIA			
1	WARE LENGTE - GH	6	
2	LINKERAANSIG	3	
3	TABEL	2	
PENALISERING (-1)			
<b>TOTAAL</b>		11	

TABEL		
2.1	WL - GH	
2.2	$\ominus$ - GH	



BESKRYWENDE MEETKUNDE

BERAAMDE TYD VIR VOLTOOIING  
JOU TYD VAN VOLTOOIING

30 MIN  
MIN

GRAAD  
**10**

NAAM & VAN

TAAK  
9.2  
BLADSY  
3.2