

**VRAAG 3: PERSPEKTIEF**

**Gegee:**

Drie aansigte van 'n blok met die nodige inligting om 'n eenpuntperspektieftekening te teken. Die vooraansig is nie in die korrekte posisie geteken vir die finale voltooiing van die tekening nie.


Die volgende verklaring kan vir die afkortings gebruik word:

- PV - Prentvlak
- HL - Horisonlyn
- GL - Grondlyn
- SP - Staanpunt

**Instruksies:**

- Gebruik al die gegewe inligting en teken 'n eenpuntperspektieftekening.
- Bepaal en benoem die verdwynpunt.
- Toon alle konstruksielyste.
- Geen verborge detail word verlang nie.
- Punte word afgetrek vir onakkuraatheid en slordigheid. **[15]**

ASSESSERINGSKRITERIA				
1	KONSTRUKSIE	6		
2	HUIS	9		
PENALISERING (-)				
<b>TOTAAL</b>		<b>15</b>		




PV

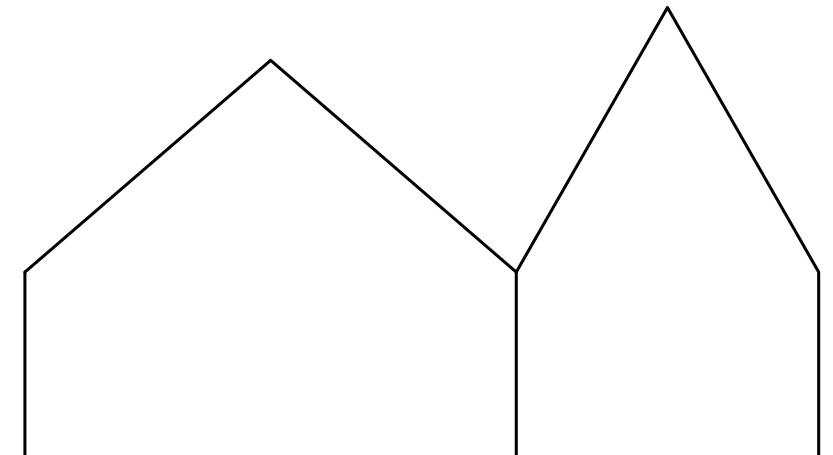
PV

HL

HL



+<sub>SP</sub>



GL

GL



**EENPUNTPERSPEKTIEF**

BERAAMDE TYD VIR VOLTOOIING  
JOU TYD VAN VOLTOOIING

25 MIN  
MIN

GRAAD  
**10**

NAAM & VAN

TAAK  
12.5

BLADSY  
4.5