

VRAAG 3: PERSPEKTIEF

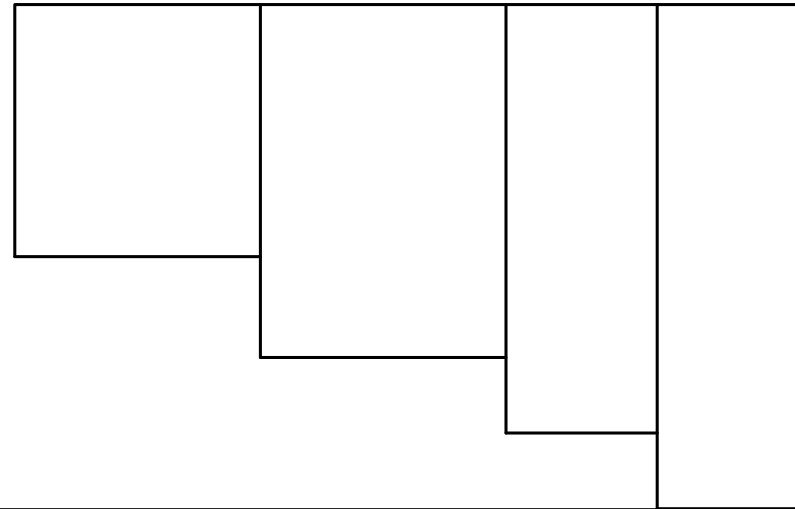
Gegee:

Drie aansigte van 'n blok met die nodige inligting om 'n eenpuntperspektieftekening te teken. Die vooraansig is nie in die korrekte posisie geteken vir die finale voltooiing van die tekening nie. Die volgende verklaring kan vir die afkortings gebruik word:

- PV - Prentvlak
- HL - Horisonlyn
- GL - Grondlyn
- SP - Staanpunt

Instruksies:

- Gebruik al die gegewe inligting en teken 'n eenpuntperspektieftekening.
- Bepaal en benoem die verdwynpunt.
- Toon alle konstruksielyste.
- Geen verborge detail word verlang nie.
- Punte word afgetrek vir onakkuraatheid en slordigheid. **[16]**



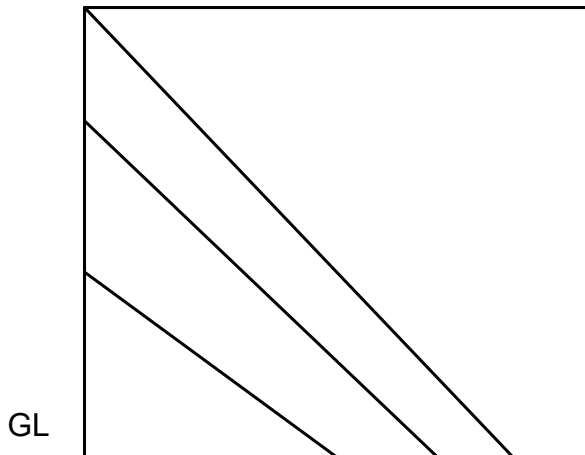
ASSESSERINGSKRITERIA				
1	KONSTRUKSIE	4		
2	BLOK	12		
PENALISERING (-)				
TOTAAL		16		

PV

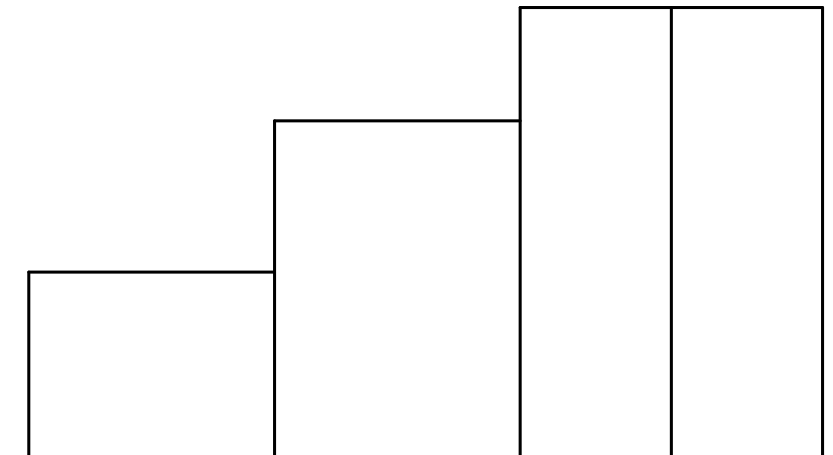
PV

HL

HL



SP



GL



EENPUNTPERSPEKTIEF

BERAAMDE TYD VIR VOLTOOIING
JOU TYD VAN VOLTOOIING

25 MIN
MIN

GRAAD
10

NAAM & VAN

TAAK
12.6

BLADSY
4.6